

# 國小 數學 1 下 期末複習卷 (第六單元~第九單元) B

一年\_\_班 座號：\_\_ 姓名：\_\_ 分數：\_\_

**1** 先完成月曆，再回答問題。

(填月曆每格 1 分，其餘每格 2 分，共 24 分)

12 月						
日	一	二	三	四	五	六
			( 1 )	2	( 3 )	4
5	6	( 7 )	8	9	10	11
( 12 )	13	14	15	16	17	( 18 )
19	20	( 21 )	22	23	24	25
( 26 )	27	28	29	30	( 31 )	

(1)



爸爸說 12 月的最後一個星期六要帶我去兒童樂園，那一天是 12 月( 25 )日。

**2** 用 10 和 1 畫畫看看，再回答問題。

(每個答案 2 分，共 8 分)

(本題畫法僅供參考)

(1) 芸可想买一個 76 元的筆筒，要怎麼付錢才會剛好？

10 10 10 10 10 10 10 10 1 1 1 1 1 1

如果只用 10 來付，最少要付 ( 8 ) 個 10 才夠。

(2) 小君想买一本 99 元的畫冊，要怎麼付錢才會剛好？

10 10 10 10 10 10 10 10 10 1 1 1 1 1 1 1 1 1 1

如果只用 10 來付，最少要付 ( 10 ) 個 10 才夠。

**3** 圈圈看看，用兩種不同的圈法

**5** 寫出做法和答案。

(每題 5 分，共 25 分) (本題做法僅供參考)

- (1) 魚池裡有 32 條吳郭魚和 45 條虱目魚，魚池裡共有幾條魚？

$$32 + 45 = 77$$

答：( 77 ) 條魚

- (2) 小霆有 63 個好寶章，小霓有 69 個好寶章，小霓的好寶章比小霆少幾個？

$$69 - 63 = 6$$

答：小霓少 ( 6 ) 個

- (3) 游泳池有 14 個女生，男生比女生多 9 個，游泳池有幾個男生？

$$14 + 9 = 23$$

答：( 23 ) 個男生

- (4) 冠廷有 55 元，買筆花掉 9 元，冠廷還剩下多少元？

$$55 - 9 = 46$$

答：剩下 ( 46 ) 元

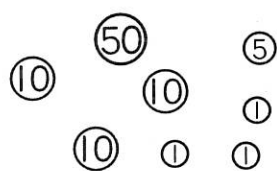
- (5) 足球社有 23 個學生，練球時一個人分 1 顆足球，有 5 個學生沒有分到球，足球社有幾顆足球？

$$23 - 5 = 18$$


答：( 18 ) 顆足球

**6** 數數看有多少元？在比較多的□裡打√。(每個答案 1 分，共 6 分)

(1)




( 88 ) 元




( 84 ) 元

(2)



( 66 ) 元



( 59 ) 元

**7** 下面是文具店老闆清點庫存的紀錄，看表回答問題。

(每題 3 分，共 12 分)

鉛筆	橡皮擦	膠水	膠帶
66 枝	57 個	91 個	84 個

- (1) 哪一種文具的庫存最多？  
( 膠水 )
- (2) 哪一種文具的庫存最少？  
( 橡皮擦 )
- (3) 老闆發現 1 枝鉛筆斷掉了，現在剩下 ( 65 ) 枝鉛筆。
- (4) 再賣掉 10 個膠帶後，現在剩下 ( 74 ) 個膠帶。

**8** 素養題。(每格 5 分，共 15 分)

▲自動販賣機。

阿珠有 8 個十元元和 6 個一元元，她想自動販賣機買一包 34 元的餅乾。

- (1) 要投幾個十元元才夠？  
( 4 ) 個十元元
- (2) 自動販賣機零錢不足無法找錢，阿珠還能怎麼付錢？  
( 3 ) 個十元元和 ( 4 ) 個一元元