
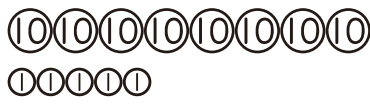



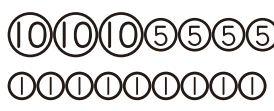

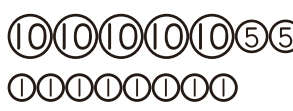

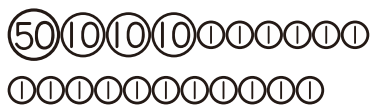


國小數學 1 下單元卷 七、認識錢幣




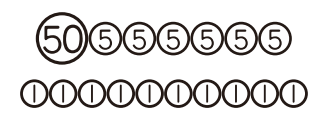
一年 班 號 姓名： \_\_\_\_\_

1 數一數，有幾元？填在( )裡，再回答問題。(每個答案 2 分，共 16 分)

		( )元
		( )元
		( )元
		( )元
		( )元


- 誰的錢最多？圈圈看。  
( 聖豐, 玟莉, 美婷, 素芬, 弘偉 )
- 誰的錢最少？圈圈看。  
( 聖豐, 玟莉, 美婷, 素芬, 弘偉 )
- 聖豐和玟莉，哪一個人的錢比較多？( )

2 看圖回答問題。(每個答案 1 分，共 10 分)

	
	
翊芬有( )個 50、( )個 10 和 ( )個 1，合起來是( )元。	奇翰有( )個 50、( )個 5 和 ( )個 1，合起來是( )元。
誰的錢比較多？多幾元？ ( 翊芬, 奇翰 )的錢比較多，多( )元。	

3 填填看看。(每格 2 分，共 30 分)

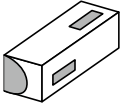



- 童彤買一枝  6元 和 一個  10元，共要付( )個 10。
- 淑娟想買一個  30元。
  - 用 10 來付，要付( )個。
  - 用 5 來付，要付( )個。
  - 用 1 來付，要付( )個。
- 爸爸想買一個  50元。
  - 用 50 來付，要付( )個。
  - 用 10 來付，要付( )個。
- 媽媽想買一顆  100元。
  - 用 100 來付，要付( )張。
  - 用 50 來付，要付( )個。
  - 用 10 來付，要付( )個。
- 家能有 9 個 10，他想要買一個  74元，最少要付( )個 10 才夠。
- 右圖是 詠昕 存的錢，他一共存了( )元。
 
- 小印有 ，他可以買下面這些東西嗎？可以買的在( )裡打√，不能買的打×。
 

			
36元	28元	42元	30元
( )	( )	( )	( )


4 買下圖這些東西，要怎麼付錢才

會剛好？用 10 和 5 畫畫看看。

(每題 4 分，共 16 分)


(1)	 82 元
(2)	 34 元
(3)	 47 元
(4)	 79 元

5 看看圖做做看看。(每題 5 分，共 20 分)

(1) 佳音有 5 個 10，想買一個  35 元，最少要付幾個 10 才夠？


10 10 10 10 10

答：最少要付 ( ) 個 10 才夠。

(2) 威博有 9 個 10，想買一個  66 元，最少要付幾個 10 才夠？

10 10 10 10 10  
10 10 10 10

答：最少要付 ( ) 個 10 才夠。

(3) 育晟買一個  30 元，可以怎麼付錢？圈圈看看。

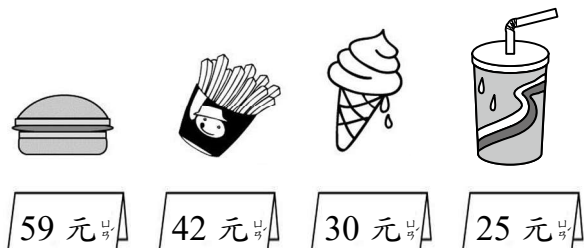
10 10 10 10 10 10 10 10 10 10  
5 5 5 5 1 1 1 1 1 1 1 1 1 1  
5 5 5 5 1 1 1 1 1 1 1 1 1 1  
5 5 5 5 1 1 1 1 1 1 1 1 1 1

(4) 燕宜買一個  58 元，可以怎麼付錢？圈圈看看。


10 10 10 10 10 10 10 10 10 10  
5 5 5 5 1 1 1 1 1 1 1 1 1 1  
5 5 5 5 1 1 1 1 1 1 1 1 1 1  
5 5 5 5 1 1 1 1 1 1 1 1 1 1

6 素養題。(每題 4 分，共 8 分)

宥詒的錢包裡有 1 個 50、3 個 10 和 8 個 1。



(1) 宥詒想買一個 ，要怎麼付錢？畫畫看看。

(2) 接第(1)題，買了  後，宥詒剩下多少錢？

答：剩下 ( ) 元。