


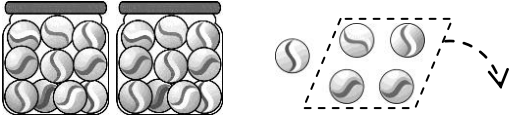
年 班 座號： 姓名： 家長簽名： 得分：

一、看圖填填看看。

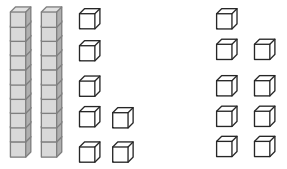
(每格 2 分，共 24 分)

1. 

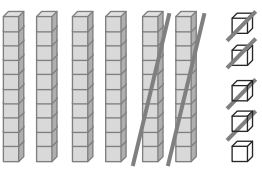
() + () = ()

2. 

() - () = ()

3. 

() + () = ()

4. 

() - () = ()

二、畫(10)和(1)做做看看。

(每題 4 分，共 12 分)

1. $54 + 8 = ()$

2. $30 - 6 = ()$

3. $24 + () = 30$

三、算算看看：

(每個答案 3 分，共 15 分)

1. $53 + 7 = ()$

2. $64 + 12 = ()$

3. $18 - 7 = ()$

4. $33 - 9 = ()$

5. $90 - 85 = ()$

四、比比看看：

(每個答案 4 分，共 20 分)

1. $12 + 10$ $11 + 10$

2. $10 + 12$ $20 + 2$

3. $65 + 15$ $15 + 65$

4. $40 - 5$ $35 + 5$

5. $79 - 19$ $70 - 9$


五、圈出圈看：圈出對的答(每個答3分，共9分)






1. 弟弟有50元，他的錢夠不夠買小熊？ (夠 不夠)
2. 妹妹有80元，她的錢足夠買到哪幾個玩具，把它圈起來。(機器人 小熊 飛機)

六、應用題：寫出算式和答(每題5分，共20分)




安心早餐店販售的商品如下圖，請你先做做看，再把算式記下來：



1. 媽媽買了2個 ，要付多少元？
2. 買一瓶  比買一杯 ，要多付多少元？

答：要付 () 元

答：多付 () 元

3. 爸爸買了一顆 ，付一個50元，可以找回多少元？
4. 弟弟買了一個  和一個 ，共要付多少元？

答：找回 () 元

答：要付 () 元