


◎ 動物的身體部位

1. 動物的身體可以分成不同的部位，請將下圖中動物各部位的名稱寫出來。




◎ 區分動物身體的部位

2. 下面哪些動物的身體可以區分為頭、軀幹、四肢等部位？請在 中打 。



1 貓



2 魚



3 蚯蚓



4 青蛙



5 羊



6 猴子

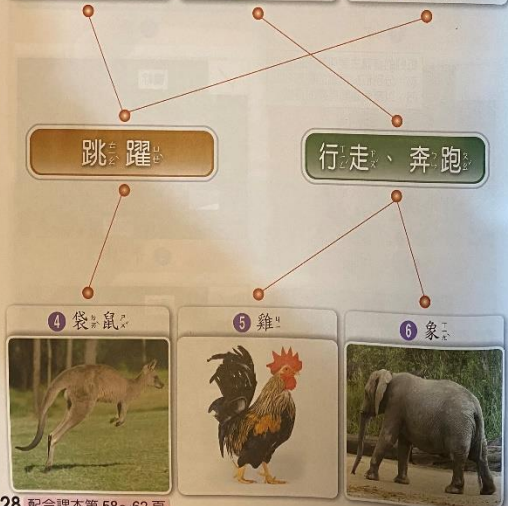
◎ 動物主要的運動方式

3. 將下列動物主要的運動方式，連到正確的選項。



跳躍

行走、奔跑



◎ 動物的身體構造與運動方式

4. 動物在運動時，主要會用到身體的哪些部位？請將正確的代號填到 中。

ㄅ. 翅膀 ㄆ. 腳 ㄇ. 鱗 ㄎ. 腹足



1 蜥蜴爬行走



2 貓行走



3 鳥飛行



4 魚游泳



5 蝴蝶飛行



6 蝸牛爬行走

根據動物的特徵做分類

5. 請將下面的動物分成兩組，並在方格內寫出你是依據什麼特徵來分類的？



1. 兒童有時會出現「兩隻腳」或「四隻腳」之類分類法，而遺漏某些動物，因此教師要強調全部的動物都要分成兩組，不能有動物被遺漏。

此題答案不是一個，合理即可。

有翅膀	沒有翅膀
①、④、⑦	②、③、⑤、⑥、⑧、⑨、⑩

(請填入動物的代號)

動物的外形特徵與運動方式

6. 請閱讀下列題目，選出正確的動物名稱，並在方格中打勾。

- 會飛行、有一對翅膀、身上有羽毛、會發出嘰嘰喳喳的叫聲、常成群站在電線上。

<input type="checkbox"/> 鴿子	<input checked="" type="checkbox"/> 麻雀
-----------------------------	--
- 會游泳、有一對大眼睛、身上有鱗片、用鰓呼吸。

<input checked="" type="checkbox"/> 金魚	<input type="checkbox"/> 青蛙
--	-----------------------------
- 擅長跳躍、有四隻腳、後腳比前腳粗大有力、身上有毛、有一對長耳朵、尾巴短小。

<input type="checkbox"/> 狗	<input checked="" type="checkbox"/> 兔子
----------------------------	--
- 沒有腳、身體有環節、以土壤為食物、是農夫的好幫手。

<input checked="" type="checkbox"/> 蚯蚓	<input type="checkbox"/> 蜈蚣
--	-----------------------------
- 會飛行、有兩對翅膀、翅膀上常有花紋、有六隻腳、大多以花蜜為食。

<input checked="" type="checkbox"/> 蝴蝶	<input type="checkbox"/> 蜜蜂
--	-----------------------------

與動物有關的發明

7. 連連看看，人類的哪些活動或發明可能和動物的外形或特徵有關？

游泳-蛙式 鳥

飛機 青蛙

吸盤 猴子

國術-猴拳 章魚

樂讀科學

流浪犬變身人類好幫手

屏東縣恆春鎮威鯨救難大隊有隻可愛的狗隊員「饅頭」，本來是一隻流浪犬，經過訓練後，學會叼著救生圈繩在海面上游泳，進行救援工作。

從新屋收容所被帶出來的米格魯犬「KENT」，受訓後順利成為檢疫犬，在機場值勤多年，工作經驗非常豐富。

將流浪犬培育成工作犬的計畫，不但幫助了流浪犬，更為人類增加了不少可愛的小幫手呢！



透過認養代替購買的方式，也可以幫助到流浪動物喔！



動動腦

(3) 關於流浪犬的敘述，何者正確？

- 應該以「購買」代替「認養」。
- 流浪犬不會影響人類生活。
- 經過訓練可以幫助人類。
- 流浪犬沒人養，不必保護牠們！